

# SEVERNÍ EVROPA

**Doplň:** Tři státy severní Evropy se rozkládají na ..... poloostrově. Jsou to ....., ....., ..... Stát ..... leží na ..... poloostrově a stát ..... je stát ostrovní. Většina území se rozkládá v ..... podnebném pásu, pouze v okolí ..... polárního kruhu je podnebí ..... Hustota zalidnění je poměrně ....., životní úroveň obyvatel naopak ..... Většina obyvatel se hlásí k ..... církvi. Ve většině zemí se hovoří jazyky ....., jen ..... je jazykem ugrofinským.

## **Vysvětli pojmy:**

Fjord .....

Troll .....

Neutrální země .....



Laponsko .....

## **Staň se detektivem:**

Jak se ti úkol plnil?



Na obrázcích jsou významné osobnosti pocházející ze severní Evropy. Pokus se vyhledat kdo jsou, odkud pochází a čím se proslavili.

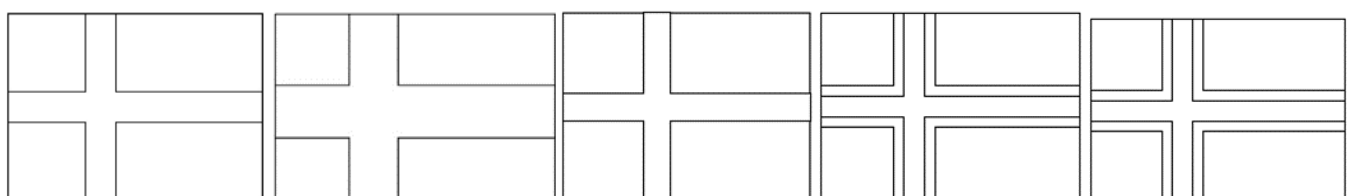
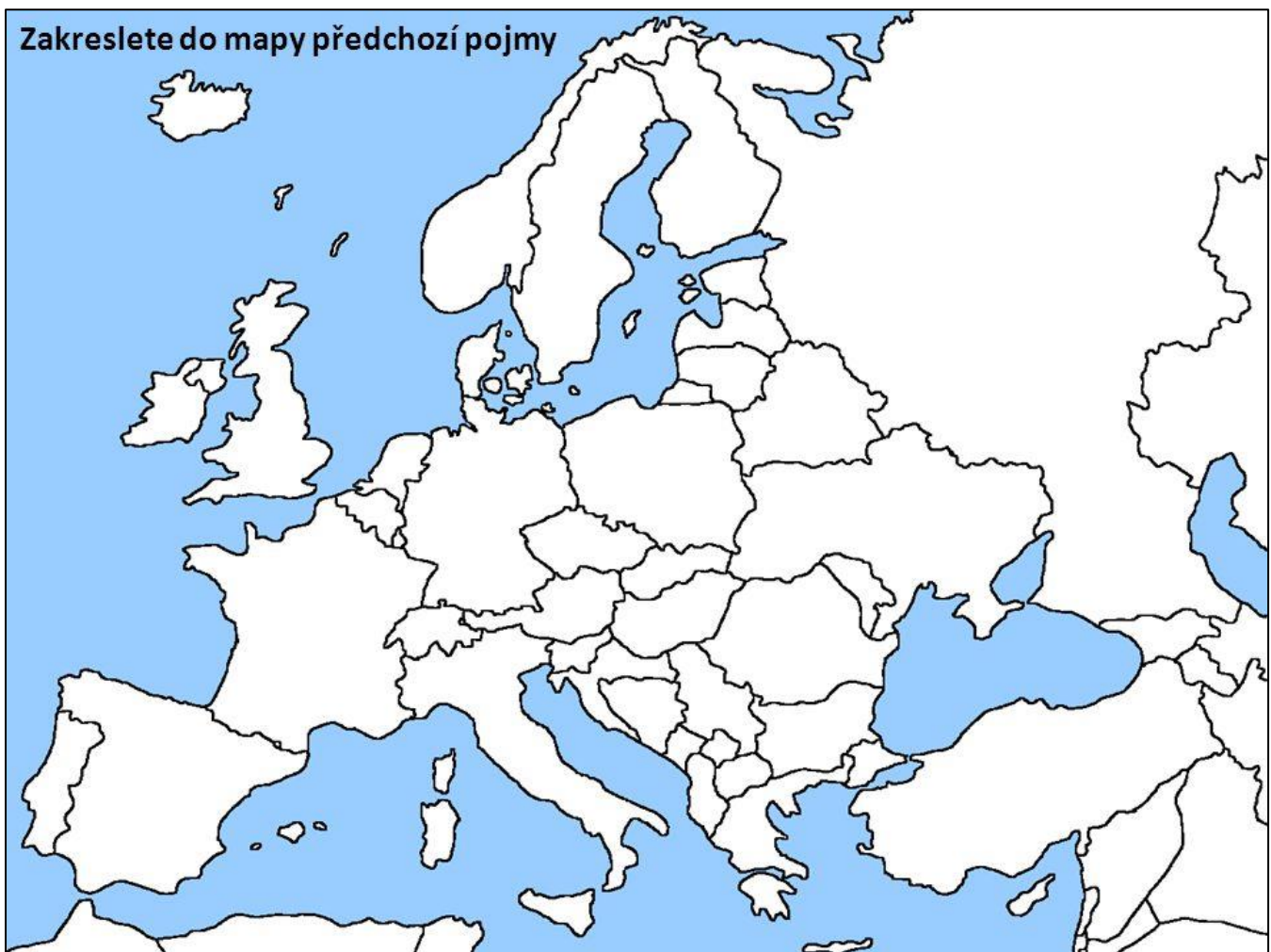


.....	.....	.....	.....
.....	.....	.....	.....
.....	.....	.....	.....
.....	.....	.....	.....

**Do tabulky vyplň státy severní Evropy a informace o nich:**

STÁT		HLAVNÍ MĚSTO	POLITICKÉ ZŘÍZENÍ	ČLEN EU	ČLEN NATO

**Státy uvedené v tabulce vyznač do slepé mapy. Vlajky vybarvi a přiřaď stát.**



.....