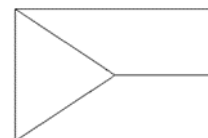


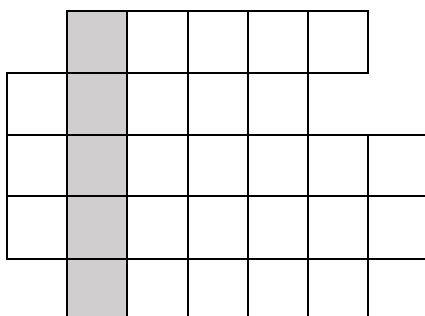
## STŘEDNÍ EVROPA

**Doplň:** Státy mají v rámci Evropy strategickou polohu. Jsou spojnicí ostatních oblastí Evropy a křižovatkou kulturních a politických vlivů. Centrální polohu má ....., se kterou na západě sousedí průmyslově vyspělé ....., na severu zemědělsky vyspělé ....., na východě ..... Tři alpské státy ....., ..... a ..... leží jižně, stejně jako nížinné ..... s rozsáhlou stepí. Významná pohoří jsou ..... a Západní ....., významné řeky ....., ....., ..... Obyvatelstvo mluví ....., ....., ..... jazyky.

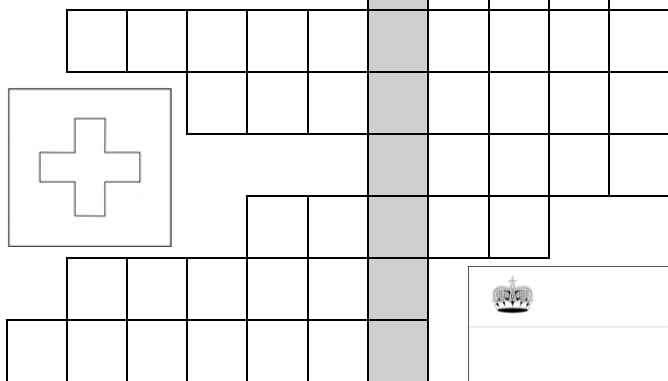


**Vyřeš tajenku a zjisti více informací. Vybarvi vlajky států a urči, komu patří.**

Polsko, Maďarsko, Slovensko a Česká republika patří mezi státy ..... skupiny.



- \_\_\_\_\_ Hlavní město nejmenšího státu oblasti
- \_\_\_\_\_ Fialová kráva a značka čokolády
- \_\_\_\_\_ Největší vyhlazovací tábor 2. světové války
- \_\_\_\_\_ Přírodní procesy, které vytvořily většinu jezer
- \_\_\_\_\_ Významný polský přístav
- \_\_\_\_\_ Neutrální stát, není člen EU ani OSN
- \_\_\_\_\_ Skupina 3 ze 4 úředních jazyků Švýcarska
- \_\_\_\_\_ Významná řeka, patří k úmoří Černého moře
- \_\_\_\_\_ Maďarská step
- \_\_\_\_\_ Slavný vídeňský tanec
- \_\_\_\_\_ Studené moře, výskyt jantaru



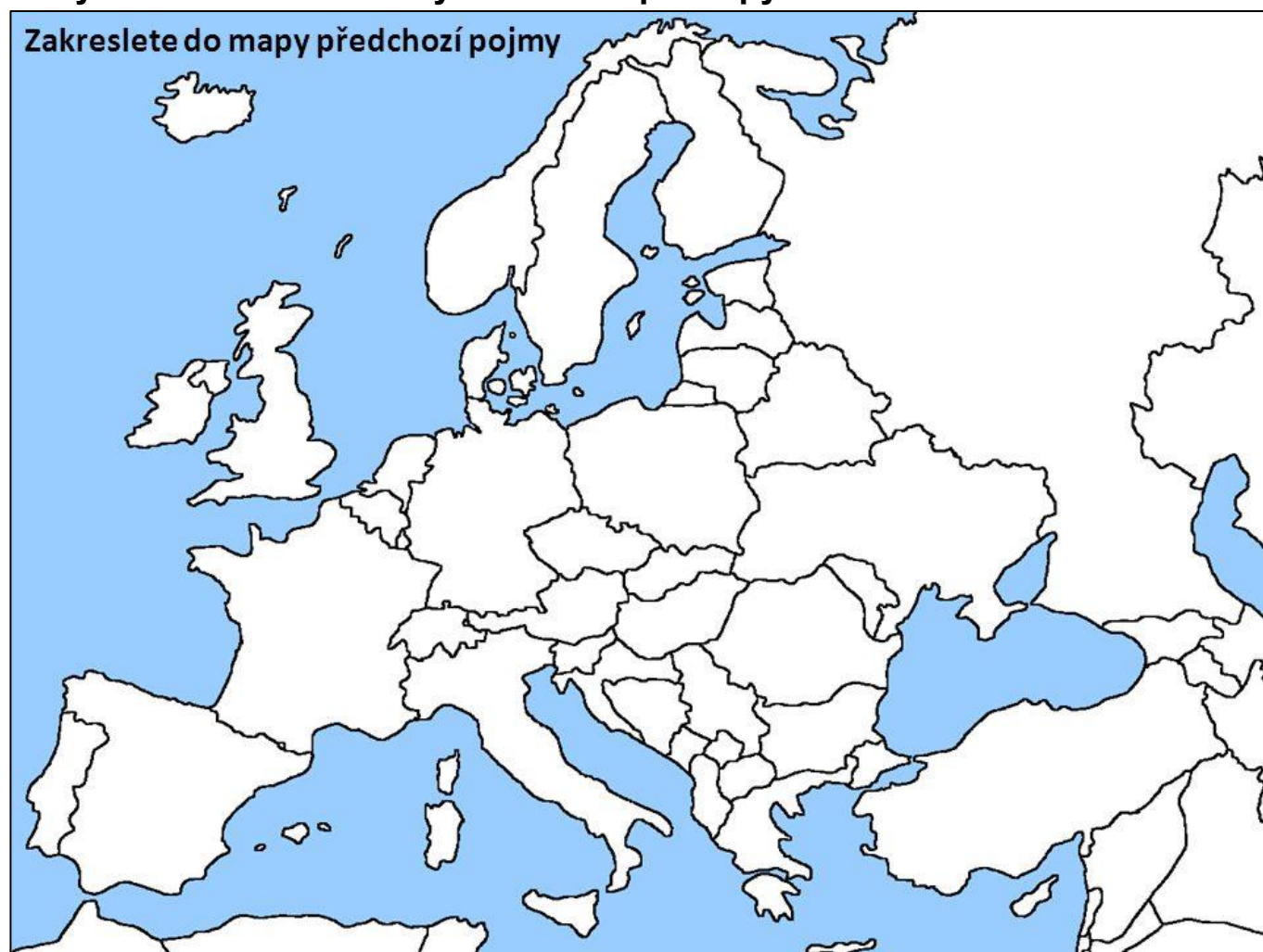
**Urči stát:**


- a) Hodinářství – banky – Ženevské jezero – Bern .....
- b) 2. nejlidnatější v Evropě – germánské obyvatelstvo – automobilky – Berlín .....
- c) Budapešť – Balaton – pusty – bauxit (ruda hliníku) .....
- d) Alpy – Solná komora – Mozart – Vídeň .....
- e) Tatry – Gerlachovský štít – jazyk podobný češtině – hutnictví .....
- f) Monarchie – optické a měřicí přístroje – nízké daně – bankovníctví .....
- g) Katolická církev – zemědělství – Osvětim – Gdaňsk .....

**Do tabulky vyplň státy střední Evropy a informace o nich:**

STÁT		HLAVNÍ MĚSTO	POLITICKÉ ZŘÍZENÍ	ČLEN EU	ČLEN NATO

**Státy uvedené v tabulce vyznač do slepé mapy.**



.....